
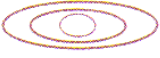







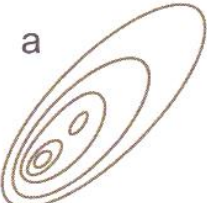





Окружной этап 72-го Первенства по туризму образовательных организаций ЮВАО, подведомственных Департаменту образования города Москвы. Лыжный туризм.

29 января 2017г.

ПКиО Кузьминки

**«КОНТРОЛЬНО-ТУРИСТСКИЙ МАРШРУТ»
Примерный вариант тестового задания этапа «Топография»**

1	Подберите графическое изображение рельефа к заданному профилю	 <p align="center">а </p> <p align="center">б </p> <p align="center">в </p>
2	Подберите профиль к графическому изображению рельефа	 <p align="center">а </p> <p align="center">б </p> <p align="center">в </p>
3	Подберите описание к графическому изображению рельефа	 <p>а) холм с двумя вершинами, крутой с запада и пологий с востока</p> <p>б) яма с крутым западным склоном</p> <p>в) холм с двумя вершинами, крутой с востока и пологий с запада</p>
4	Подберите к описанию рельефную ситуацию	<p>Холм, вытянут в направлении запад-восток. Имеет две вершины.</p> <p>а </p> <p>б </p> <p>в </p>
5	Подберите описание рельефной ситуации	 <p>а) ребро</p> <p>б) промоина</p> <p>в) лощина</p>

6	Какая карта сориентирована по компасу	
7	Какой контрольный пункт стоит ниже по рельефу	
8	Какой КП находится на северном пересечении троп	
9	На какой КП придет участник, если со старта будет двигаться по азимуту 315	
10	Исключите лишний ориентир	